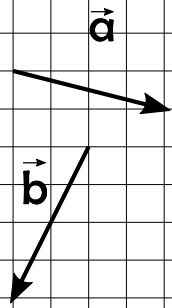
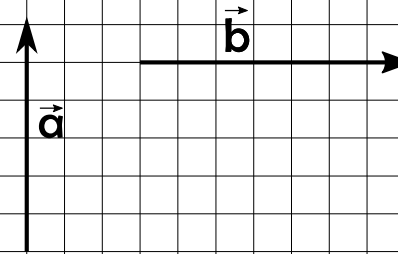


Вариант 2

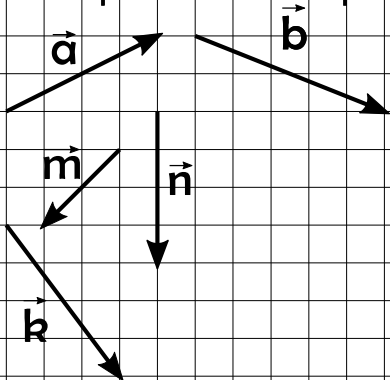
Постройте вектор $\vec{c} = \vec{a} + \vec{b}$ и вектор $\vec{d} = \vec{a} - \vec{b}$



Постройте вектор $\vec{c} = \vec{a} + \vec{b}$ и вектор $\vec{d} = \vec{a} - \vec{b}$



Постройте вектор $\vec{c} = \vec{a} + \vec{b} + \vec{n} + \vec{m} + \vec{k}$



Постройте вектор $\vec{c} = \vec{a} - \vec{b} + \vec{n} - \vec{m} + \vec{k}$

